




Projekt współfinansowany przez Unię Europejską w ramach Europejskiego Funduszu Społecznego.

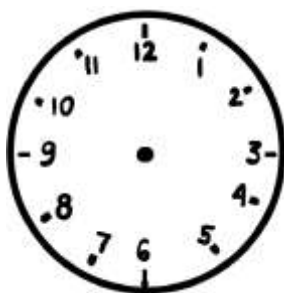
## Karta pracy - Kto szybciej?

### Zadanie 1

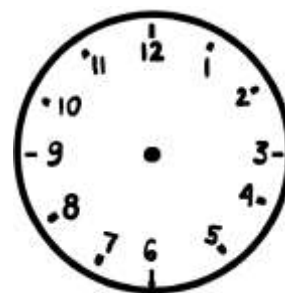
Zaznacz podane godziny na zegarach.




7: 00




10: 00



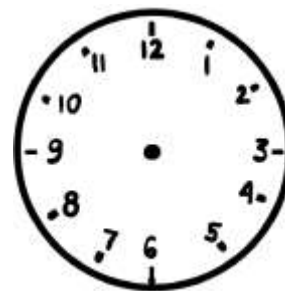
9: 00



13: 00



12: 00



8: 00






Projekt współfinansowany przez Unię Europejską w ramach Europejskiego Funduszu Społecznego.

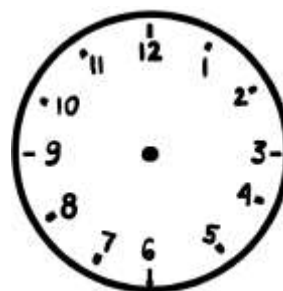

## Zadanie 2

Zaznacz na zegarze po prawej stronie odpowiednią godzinę.



Zawody trwają 3 godziny.

O której godzinie się skończą?





**UNIA EUROPEJSKA**  
**EUROPEJSKI**  
**FUNDUSZ SPOŁECZNY**



Ania wyjechała na zawody o godzinie 9:00 i wróciła o godzinie 12.00.

Ile godzin Ania była na zawodach?

Rozwiązanie:

[illegible]

Odpowiedź: Ania była na zawodach  godziny.